



Сурагчийн нэр:

Эхэлсэн: он сар өдөр

Квадратын талбайг олоод, хүснэгтэд бичээрэй.

Квадратын тал	1см	1дм	1м	10м	100 м	1км
Квадратын талбай						

↑
1 ар
↑
1 га

1. Кубын ирмэг 1см бол дэлгээсийн талбайг олоорой.

Бодолт:

Кубын ирмэг: 1 см

Нэг талсын талбай: $1\text{см} \times 1\text{см} = 1\text{см.кв}$

Дэлгээсийн талбай: $6 \times 1\text{см.кв} = 6\text{см.кв}$

2. Дүрсийн талбайд 1см.кв хэдэн удаа багтсаныг тооцоолоорой.

а. см.кв

б. см.кв

в. см.кв

3. Өгсөн дүрсүүдээр нийлмэл дүрс бүтээж, талбайг олоорой.

Дууссан:сарөдөр



Даалгавар	1	2	3
Өөрийн үнэлгээ			



Сурагчийн нэр:

Эхэлсэн: он сар өдөр

1 а = 10 м × 10 м = 100 м.кв

1 га = 100м × 100м = 10000 м.кв

1. Тохирох нэгжид шилжүүлээрэй.

а. 2 а = _____ м.кв

в. 2 га = _____ м.кв

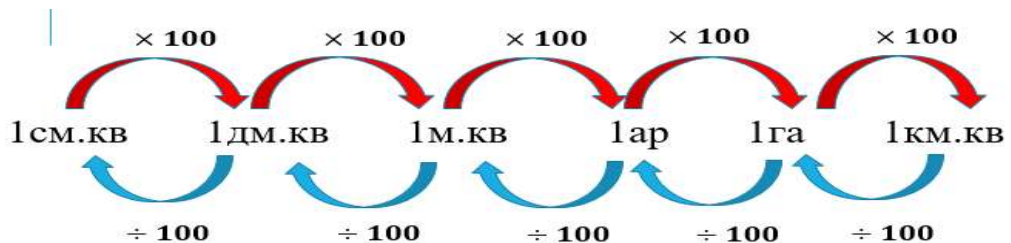
б. 10 а = _____ м.кв

г. 10 га = _____ м.кв

2. Хүснэгтийг нөхөөрэй.

Урт	...	20 м	
Өргөн	4 м		2 м
Талбай	100 м.кв	100 м.кв	100 м.кв

3. Талбайн нэгжүүдийн хамаарлыг уншаарай.



4. Үйлдлийн гишүүдийн хамаарлыг олоод, хоосон дөрвөлжинд тохирох тоог бичнэ үү.

а. $10 \text{ м} \times 10 \text{ м} = 100 \text{ м.кв}$
 $\times 2 \downarrow \quad \times 3 \downarrow \quad \downarrow \times \square$
 $20 \text{ м} \times 30 \text{ м} = 600 \text{ м.кв}$

б. $20 \text{ дм} \times 10 \text{ дм} = 200 \text{ дм.кв}$
 $\div 10 \downarrow \quad \times 2 \downarrow \quad \downarrow \div \square$
 $2 \text{ дм} \times 20 \text{ м} = 40 \text{ дм.кв}$

в. $100 \text{ м} \times 100 \text{ м} = 1 \text{ га}$
 $\times 2 \downarrow \quad \times 3 \downarrow \quad \downarrow \times \square$
 $200 \text{ м} \times 300 \text{ м} = 600 \text{ м.кв}$

г. $10 \text{ м} \times 10 \text{ м} = 1 \text{ а}$
 $\times 2 \downarrow \quad \times 2 \downarrow \quad \downarrow \times \square$
 $20 \text{ м} \times 20 \text{ м} = 400 \text{ м.кв}$

Дууссан:сарөдөр

Даалгавар	1	2	3	4
Өөрийн үнэлгээ				

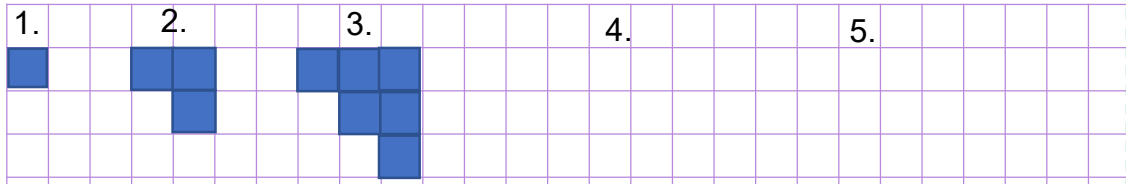


Сурагчийн нэр:

Эхэлсэн: он сар өдөр

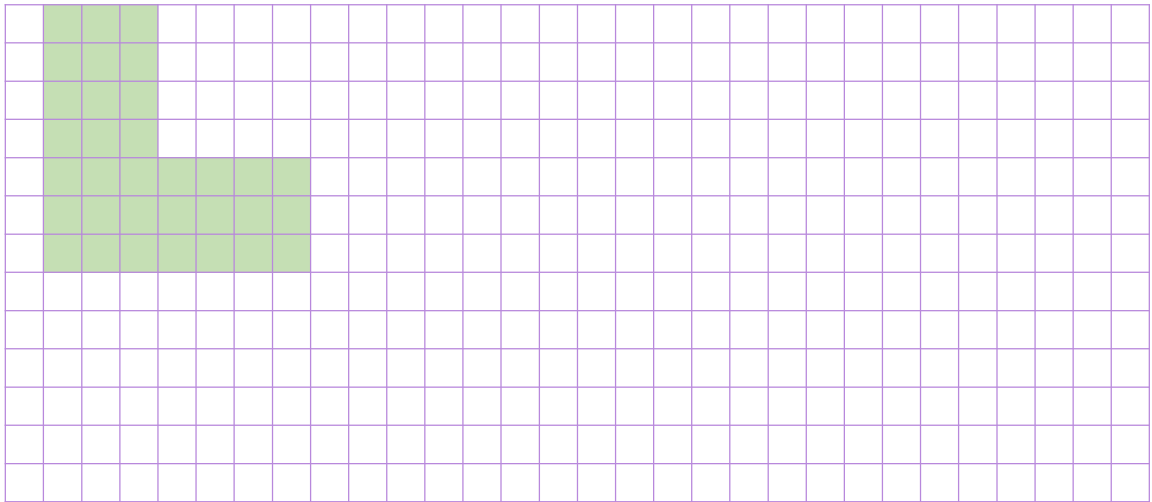


1. Зүй тогтлыг үргэлжлүүлэн зураад, хүснэгтийг нөхөөрэй.




Дүрсийн дугаар	1	2	3	4	5
Квадратын тоо					

2. Өгөгдсөн дүрсийн талбайг хэдэн аргаар бодож болохыг зураглан харуулаарай.



3. 12 см.кв талбайтай тэгш өнцөгтүүдийг зураад, хүснэгтийг нөхөөрэй.



Урт	12 см				
Өргөн	1см	2см			
Талбай	12 см.кв	12 см.кв	12 см.кв	12 см.кв	12 см.кв

Дууссан:сарөдөр

Даалгавар	1	2	3
Өөрийн үнэлгээ			